


Evidencia de alfabetización



1. Escriba en los espacios correspondientes su nombre completo y domicilio.

	Nombre y apellidos:

	Domicilio:

CREENCIAL	_____
	Firma

2. Observe y lea los mensajes que aparecen en los siguientes carteles.



3. Elija uno de los carteles anteriores y escriba si está de acuerdo, o no, con lo que dice y por qué.

4. Lea en voz alta la leyenda “Kapsis, la estrella de mar”.

Kapsis era una joven de un pueblo del Pacífico mexicano. Kapsis estaba enamorada de una estrella, y al anocheecer acudía a la orilla del mar a disfrutar de su belleza.

Una noche vio a la estrella caer en el mar. Kapsis, asustada, nadó para rescatarla, pero fue arrastrada al fondo marino.

La diosa del mar encontró su cuerpo y lo transformó en una estrella de mar. Así, ella es feliz viendo su estrella.

5. Responda las siguientes preguntas.

¿Quién es Kapsis?

¿Por qué acudía a la orilla del mar?

¿Qué le pasó?

¿Cuál es el final?

¿Le gustó? Sí No

¿Por qué?

6. Escriba en los renglones cómo se siente ahora que sabe leer, escribir y resolver problemas.

7. Carmina necesita los siguientes ingredientes para preparar agua de naranja.

Ingredientes:	1 litro de agua purificada o hervida Medio kilogramo de naranjas 3 cucharadas soperas de azúcar
----------------------	---

8. Escriba los pasos que podría seguir Carmina para preparar el agua de naranja.

1.
2.
3.
4.

9. Carmina tiene que preparar dos jarras de agua de naranja. ¿Cuánto necesita de cada ingrediente?

Ingredientes:	
----------------------	--

10. Resuelva los siguientes problemas.

Rafael compró 1 kg de huevo, que cuesta \$38.00, y pagó con un billete de \$500.00. ¿Cuánto tendría que recibir de cambio? _____

María surtió la siguiente lista de útiles para su hijo.

1 cuaderno de raya	\$25.00
1 cuaderno de cuadrícula	\$26.00
1 caja de 12 colores	\$20.00
1 estuche de geometría	\$49.00
1 lápiz	\$ 6.00
1 goma	\$15.00

¿Cuánto pagó en total? _____


11. Lea la siguiente situación.

Ángela necesita visitar urgentemente a su hermana en Zacatecas. Ella vive en la Ciudad de México. Fue a la central de autobuses y consultó la tabla de horarios.

Autobús	Destino	Hora de salida	Hora de llegada
25	CDMX - Zacatecas	6:00	14:30
37	CDMX - Zacatecas	6:30	14:00
17	CDMX - Zacatecas	7:45	17:50

¿Cuál es el horario que más le conviene? _____

12. Leonardo armó un gato con figuras geométricas. Relacione con una línea las columnas para responder las preguntas.



¿Qué figura es la cabeza?

Cuadrado

¿Qué figura utilizó para la cola?

Triángulo

¿Qué figura representa las orejas?

Óvalo

Resultado y nivel: _____

Nombre y firma de quien da seguimiento al proceso:

Conteste las siguientes preguntas.

¿Cómo se siente después de resolver el ejercicio?

¿Qué le resultó fácil?

¿Qué le costó más trabajo?

Ahora que ya sabe leer, escribir y resolver problemas, ¿qué le gustaría seguir aprendiendo?
